



**ФРУНЗЕНСКИЙ РАЙОН
ФИЗИЧЕСКАЯ
КУЛЬТУРА**

ВС Ш
ШКОЛЬНЫЙ ЭТАП

5-6 класс

Время выполнения – 45 минут

ТЕОРЕТИКО-МЕТОДИЧЕСКИЕ ЗАДАНИЯ

Все задания выполняются на бланке ответов

Часть 1. Задания в закрытой форме

При выполнении этих заданий необходимо выбрать правильное завершение из предложенных вариантов, среди которых содержатся как правильные, так и неправильные завершения, а также частично соответствующие смыслу утверждений. Правильным является то, которое наиболее полно соответствует смыслу утверждения. Выбранные варианты отметьте зачеркиванием соответствующего квадрата в бланке ответов.

1. Что представлял из себя панкратион, один из видов состязаний на Олимпийских играх в Древней Греции?


- а. рукопашный бой, сочетающий борьбу с ударной техникой;
- б. гонки на колесницах;
- в. пятиборье, включающее бег, метание диска, метание копья, прыжок в длину и борьбу;
- г. соревнование трубачей и герольдов

2. Что представлено на рисунке?



- а. олимпийская эмблема;
- б. олимпийский девиз;
- в. олимпийский талисман;
- г. олимпийский символ

3. Какую награду получали победители античных Олимпийских игр?



4. В каком виде спорта используется данный мяч?




- а. баскетбол;
- б. гандбол;
- в. футбол;
- г. волейбол

5. Что из перечисленного является признаком правильной осанки?

- а. плечи сведены вперед;
- б. одинаковые треугольники талии;
- в. на разных уровнях плечи и нижние углы лопаток;
- г. сутулая спина

6. Как называется гимнастическое положение, представленное на рисунке?



- а. исходное положение;
- б. основная стойка;
- в. стойка руки вниз;
- г. стойка ноги вместе

7. В какой игре правила запрещают ловить мяч?

- а. гандбол;
- б. волейбол;
- в. баскетбол;
- г. пионербол

8. На какой фотографии изображена олимпийская чемпионка Алина Загитова?



9. К какому виду спорта относится кувырок вперед?

- а. подвижные игры;
- б. лёгкая атлетика;
- в. спортивная гимнастика;
- г. киберспорт

10. В каком виде спорта мяч имеет наименьший размер?

- а. футбол;
- б. настольный теннис;
- в. бейсбол;
- г. баскетбол

11. Сколько игроков одной команды одновременно находятся на поле при игре в волейбол?

- а. 12;
- б. 8;
- в. 7;
- г. 6

12. Назовите дисциплину, не относящуюся к легкой атлетике:

- а. бег;
- б. ходьба;
- в. лазания;
- г. метания

13. Как дословно переводится слово «волейбол» с английского языка?

- а. прыгающий мяч;
- б. игра через сетку;
- в. парящий мяч;
- г. летающий мяч


14. Как по-другому называется бег на короткие дистанции?

- а. спрайт;
- б. спринт;
- в. стрик;
- г. строй

Часть 2. Задания в открытой форме




При выполнении этого задания необходимо самостоятельно подобрать определение, которое, завершая высказывание, образует истинное утверждение. Впишите его в соответствующую графу бланка ответов.


15. Игрока, в обязанности которого входит защищать свои ворота, то есть не давать команде противника забить гол называют....
16. С какой ноги начинается движение после команды «Шагом марш!»?
17. Спортивное сооружение, изображённое на фотографии – это



Часть 3. Задание на соответствие

18. Сопоставьте виды спорта и соответствующий к нему инвентарь и оборудование. Заполните бланк ответов.

1	Лыжные гонки	А	
2	Футбол	Б	
3	Бокс	В	

4	Хоккей	Г	
5	Легкая атлетика	Д	